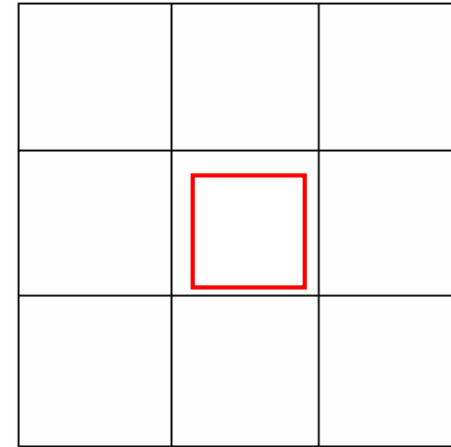

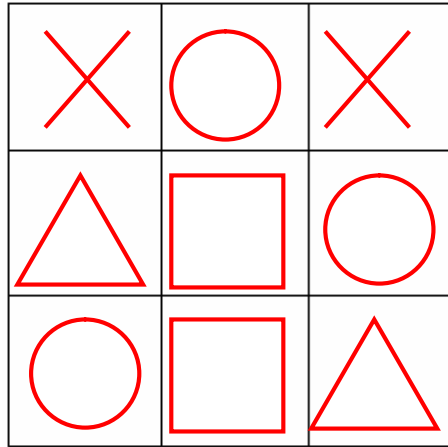


ひだりの かーどに まんなかの まどの あいた かみを のせると みぎの □だけが 見えますね。



おなじように したの まどの あいた かーどを のせると どのもようが 見えるでしょうか。あかで かきましょう。
つぎのページの うすいかみを つかって かんがえて みましょう。

